

**1-Görüntüdeki trafik levhaları
hangi durumda dikkate
alınmalıdır?**

**A) Frenleme
durumunda**

**B) Yağışlı
havalarda**

C) Her durumda.



2-) Dinlediđiniz diyalogođa gore surcu hangisini gerekleřtirmiřtir?

A) Dođru tepkiyi belirlemiřtir.

B) Levhalara dikkat etmemiřtir.

1.kiři: "Trafik iřıklarına yaklařıyoruz gordun mu?"

2.kiři: "Evet fark ettim levhayı.

Hızımızı azaltalım da kırmızı iřık yanıyor
ani fren yapmak zorunda kalmayalım."

3-Görüntüde izlediğiniz yerlerin haritalarda belirtildiği renk hangisidir?

A) Mavi

B) Yeşil

C) Kahverengi



4-) Görüntüdeki sürücü yola çıkmadan önce hangi hazırlığı yapmış olmalıydı?



A) Yaz lastiklerini taktirmiş olmalıydı

B) Yanına zincir almış olmalıydı

C) Yerdeki karları temizlemeliydi

5-) Dinlediđiniz seste, karlı, ve boş bir yolda araç kullanmakta olan sürücünün hatası nedir?



A) Seyir halinde iken telefonla konuşmak

B) Uygun olmayan yol koşullarında ani fren yapmak

C) Şerit ihlali yapmak

6-) Görüntüdeki kamyon sürücüsünün yapması gereken doğru uygulama hangisidir?

A) Flaşörleri yakarak, taş veya benzin bidonu koyarak arkadaki araçları uyarır.

B) Flaşörlerini yakarak reflektörünü uygun mesafeye yerleştirir

C) Şoför araçtan inerek el işaretleri ile arkadan gelen araçları uyarır.



7-) Resimdeki aracı kullanıyorsunuz. Aracınızda en az kaç adet boyunluk bulunmak zorundadır?

A) 1 adet

B) 2 adet

C) 3 adet



8-) Görsele göre kişinin yaptığı davranışın adı nedir?

A) Koruma

B) Kurtarma

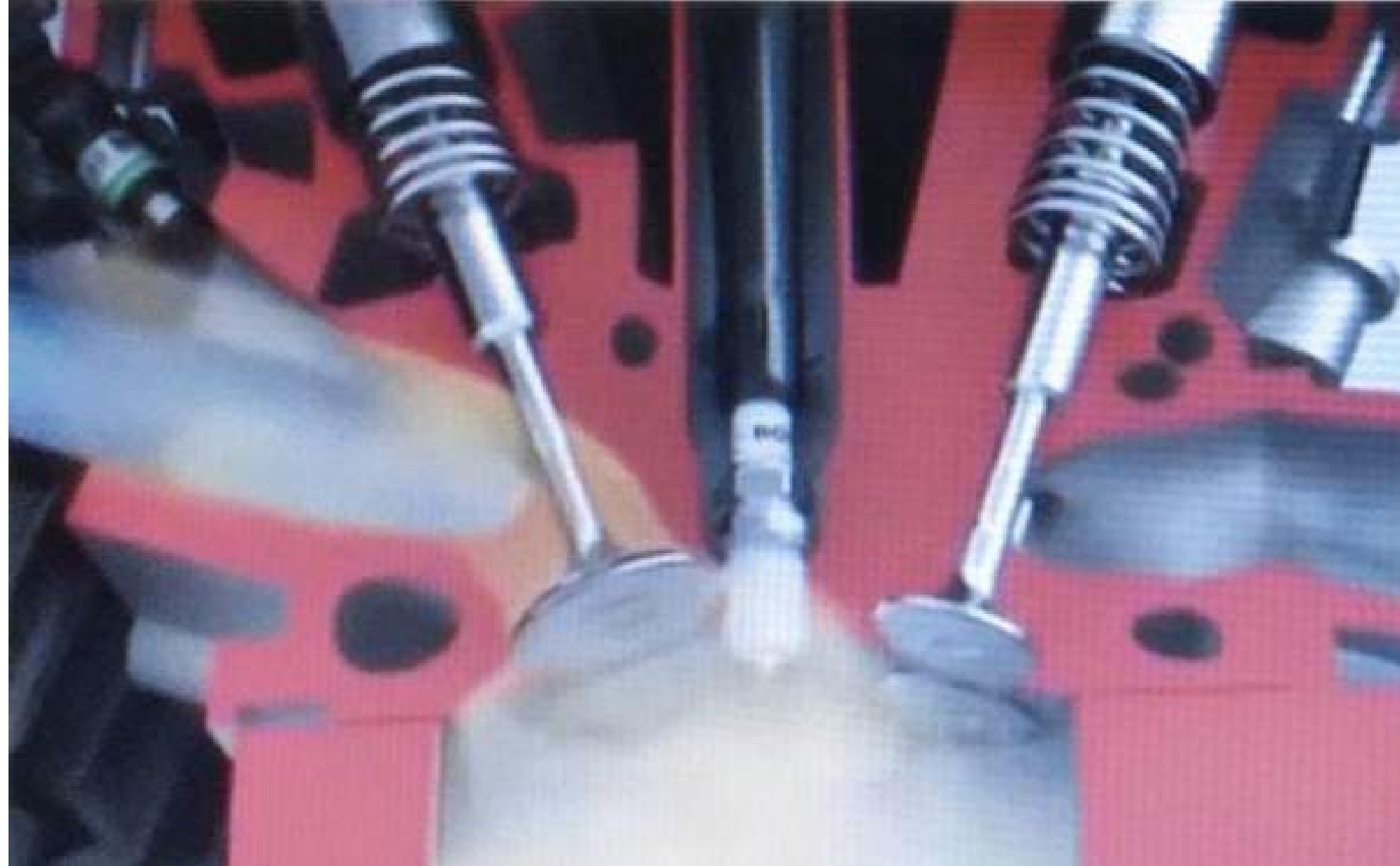


**9-İzlediğiniz görüntüdeki
ateşleme elemanı
hangisidir?**

A) Enjektör

B) Buji

**C) Ateşleme
bobini**



10-) İzlediğiniz görüntüdeki personelin doğru davranışı hangisidir?

A) Tahliye planının açıklamasını dinlememe

B) Not alma ve anlamadığı noktada soru sorma

C) Yangın tüpü kullanım talimatlarını dinlememe



11-Görselde gördüğünüz duruş pozisyonu hangi duyguyu ifade eder?

A) Endişe

B) Savunma

C) Üzüntü



12-Görseldeki trafik görevlisini gördüğünüzde ne yapmalısınız?

A) Geçerim

B) Hızlanırım

C) Yavaşlarım

**D) Sağa yanaşır
ve dururum**



13-Görüntüde izlediğiniz yerlerin haritalarda belirtildiği renk hangisidir?

A) Mavi

B) Yeşil

C) Kahverengi



14-) İzlediğiniz görseldeki şirketlerin Araç Takip Bilgi Sistemleri ile sahadaki araçlarını takip etmeleri kendilerine ne yarar sağlamaktadır?



A) Sahada kullanılan araçların yağ değişim zamanlarının tespit edilmesi.

B) Araçların seyir halindeyken konuşmalarının kaydedilmesi

C) Araçların yer konum ve durum bilgilerine merkezden anlık ulaşması

15-) Grseldeki srcnn mola sresindeki dinlenme Őekli dođru mudur?

A) Dođru

B) YanlıŐ



16-Resimde gördüğünüz karayolunda bulunan yan yana iki devamlı yol çizgisi ne ifade etmektedir?

A) Karayolunun otoyol olduğunu

B) Karayolunun iki yönlü olduğunu

C) Karayolunun bölünmüş olduğunu



17-Dinlediđiniz diyalogda hangi iletiřim yolu kullanılmıřtır?

AYŐE : Merhaba Nasılsınız ?

MEHMET : İyiyim teőekkür ederim
siz nasılsınız?

AYŐE : Bende iyiyim teőekkür ederim.

**A) Sözlü
iletiřim**

**B) Görşel
iletiřim**

18-Resimde gördüğünüz kamyonun karayolunda güvenli seyredebilmesi için uymak zorunda olduğu genişlik, uzunluk ve yüksekliği belirleyen ölçülere ne ad verilir?

A) Yüklü ağırlık

B) Taşıma sınırı

C) Gabari




19-Resimde gördüğünüz; otobüs, kamyon ve çekicilerde bulunması zorunlu olan engel işaretini hangi durumda kullanılırsınız?

**A) Aracım yüklü
Olduğunda**

**B) Aracım
Arızalandığında**

**C) Aracım boş
olduğunda**



20-) Görüntüdeki trafik levhalarını gördüğünüzde nasıl davranırsınız?

A) Her zaman yavaşlarım

B) Hava yağışlı ise yavaşlarım



21-) Resimde gördüğünüz; otobüs, kamyon ve çekicilerde bulunması gereken ve arıza hallerinde kullanılan işaretin adı nedir?

A) Reflektör işareti

B) Engel işareti

C) Flaşör işareti

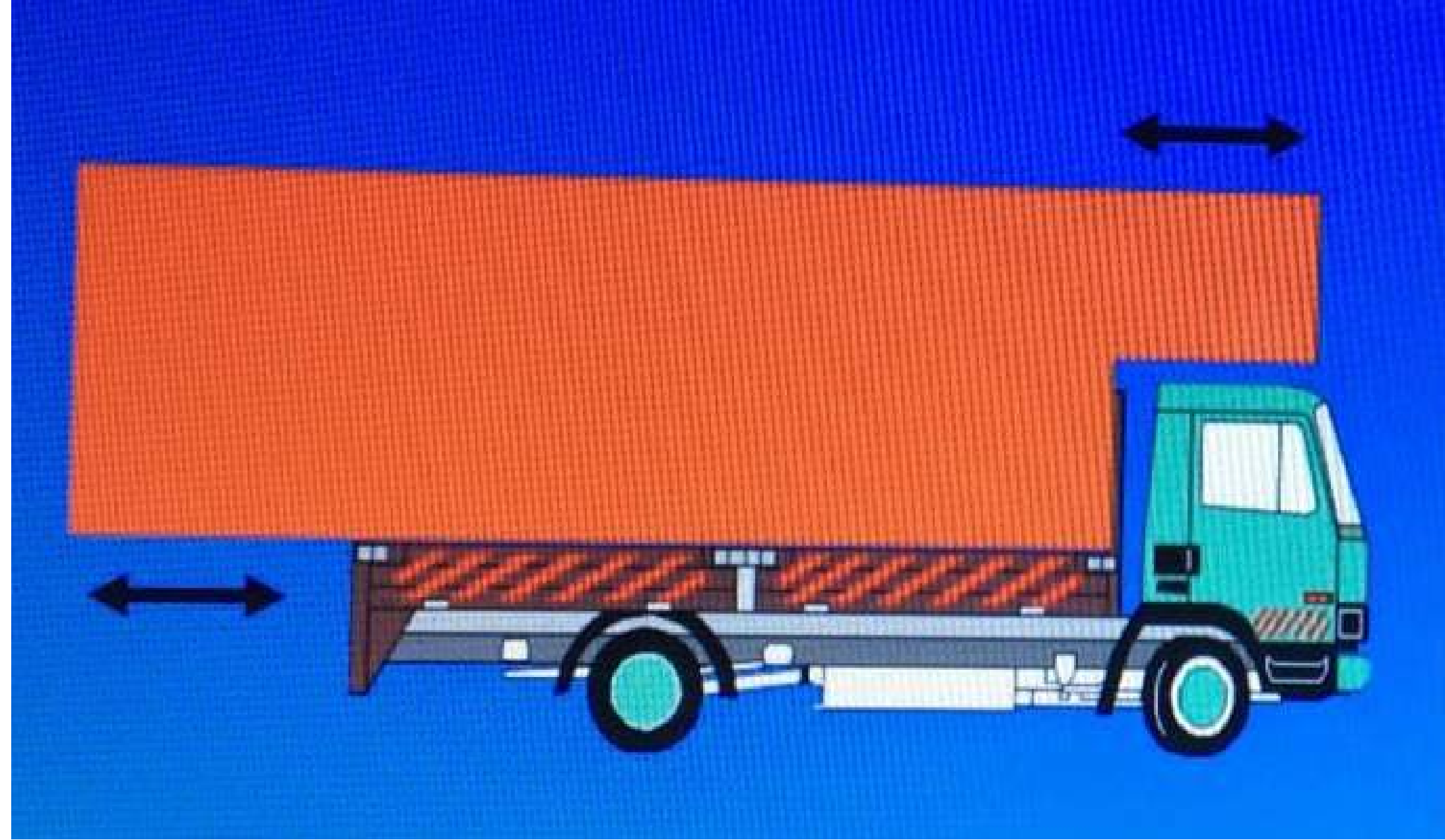


22-) Görseledeki aracın yükünün boyu ön ve arkadan en fazla kaç metre taşabilir?

**A) Önden 1,
arkadan 2**

**B) Önden 1,
arkadan 1**

**C) Önden 2,
arkadan 2**



23-) Görüntüdeki yolda bulunan yaprakların sürüş güvenliğine olumsuz etkisi var mıdır?

**A) Evet vardır.
Zemini kayganlaştırarak kontrol kaybına sebep olabilir.**

**B) Hayır yoktur.
Aracın rahat kontrol edilmesini sağlar.**



24-) İzlediğiniz görüntüdeki olay için ne söylenebilir?

A) Yakıt püskürtme

B) Buji hareketi

C) Ateşleme işlemi

